

سؤالات امتحان درس : اقتصاد	رشته : علوم انسانی	ساعت شروع : ۸ صبح	مدت امتحان : ۵۵ دقیقه
دبیرستان : نمونه دولتی شهید احمد آتش دست	تاریخ امتحان : ۹۹/۱۰/	آزمون: نوبت اول	
نام و نام خانوادگی : شماره کلاس :	تعداد صفحه: ۳ صفحه تعداد سئوال : ۹ سوال طراح: جعفری	مهر آموزشگاه	
ردیف	سؤالات		
۱	<p>غلط یا صحیح بودن عبارات زیر را مشخص کنید</p> <p>(۱-۱) یک کارآفرین موفق ضرورتاً از ابتدا حتی کارآفرین نبوده است. <input type="checkbox"/> ص <input type="checkbox"/> غ</p> <p>(۱-۲) با الگوی مرز امکانات تولید میتوان مفاهیم هزینه فرصت، کارایی و کمیابی منابع تولید را بطور همزمان توضیح داد. <input type="checkbox"/> ص <input type="checkbox"/> غ</p> <p>(۱-۳) مرز امکانات تولید مرزی است که صرفاً بیانگر توانایی تولید یک کسب و کار با استفاده از منابع موجود و در دسترس می باشد. <input type="checkbox"/> ص <input type="checkbox"/> غ</p>		
۲	<p>جای خالی را با کلمات مناسب تکمیل کنید</p> <p>(۲-۱) اگر اقتصاد بتواند دقیقاً روی ..... تولید کند، تولیدی کارا خواهد داشت</p> <p>(۲-۲) در طول تاریخ، کشورها برای دستیابی به اهداف اقتصادی، سیاسی و یا ایدئولوژیک خود دست به ..... دیگر کشورها زده اند.</p> <p>(۲-۳) ..... و .....، دو بازیگر اصلی اقتصاد هستند.</p> <p>(۲-۴) بازی اقتصاد نیازمند یک داور است که به آن ..... می گویند.</p>		
۳	<p>باتوجه به سؤال های زیر گزینه درست را انتخاب کنید.</p> <p>(۳-۱) به ترتیب اصل اول و چهارم انتخاب درست در کدام گزینه بیان شده است؟</p> <p>الف) هزینه های در رفته را فراموش کنید. - هزینه فرصت هر انتخاب را محاسبه کنید. <input type="radio"/></p> <p>ب) هزینه فرصت هر انتخاب را محاسبه کنید. - هزینه های در رفته را فراموش کنید. <input type="radio"/></p> <p>ج) منابع کمیاب خود را شناسایی کنید. - قید بودجه خود را ترسیم کنید. <input type="radio"/></p> <p>د) قید بودجه خود را ترسیم کنید. - منابع کمیاب خود را شناسایی کنید. <input type="radio"/></p> <p>(۳-۲) در ارتباط با منحنی امکانات تولید کدام گزینه نادرست می باشد؟</p> <p>الف: این منحنی را PPF نیز می نامند. <input type="radio"/></p> <p>ب: نقاط بالای این منحنی در کوتاه مدت قابل دسترسی نیستند. <input type="radio"/></p> <p>ج: این منحنی یک الگوی اقتصادی می باشد که اجازه می دهد درک بهتری از بده - بستان های یک کشور در استفاده از منابع کمیاب داشته باشیم. <input type="radio"/></p> <p>د: در نقاط کارای این منحنی افزایش تولید یک کالا بدون کاهش تولید کالای دیگر امکان پذیر است. <input type="radio"/></p> <p>(۳-۳) کدام گزینه بیانگر مفهوم جمله ی « چیزی به نام ناهار مجانی وجود ندارد.» می باشد؟</p> <p>الف: هزینه فرصت اجتماع <input type="radio"/></p> <p>ب: کارایی و ناکارایی <input type="radio"/></p> <p>ج: تخصیص بهینه منابع <input type="radio"/></p> <p>د: کمیابی منابع تولید <input type="radio"/></p>		
۴	<p>به سؤالات زیر پاسخ کوتاه دهید</p> <p>(۴-۱) پیچیده ترین نوع کسب و کار چیست؟ (۵/نمره)</p> <p>(۴-۲) قیمت تعادلی چیست؟ (۱ نمره)</p> <p>(۴-۳) قانون تقاضا را تعریف نمایید. (۱ نمره)</p>		
۵	<p>ادامه در صفحه ۲</p>		

(۴-۴) انواع مالیات مستقیم را نام ببرید. (۵/نمره)

(۴-۵) گام اول برای راه اندازی یک شرکت کسب و کار چیست؟ (۵/)

(۴-۶) دولت ها برای حمایت از صنایع داخلی خود و کاهش وابستگی اقتصادی به کشورهای دیگر چه کاری می توانند انجام دهند؟ (۵/)

(۴-۷) مفهوم « قید بودجه » چیست ؟ خط بودجه را تعریف کنید. (نمره)

۵ به سوالات زیر پاسخ کامل دهید.

(۵-۱) کار آفرین چه ویژگی های باید داشته باشد؟ (نمره)

(۵-۲) هزینه فرصت چیست و چرا معمولاً از دید ما پنهان است و آن را به حساب نمی آوریم؟ (نمره)

(۵-۳) کالاها و خدمات عمومی را تعریف کنید. مثال بزنید. (نمره)

(۵-۴) چه دلایلی باعث می شود کشورها با یکدیگر وارد مبادله شوند؟ (۵/نمره)

۶ هر عبارت ستون سمت راست با کدام نوع از کسب و کار ستون سمت چپ ارتباط دارد . ( یک مورد اضافی است .)

۶-۱) کسب و کاری است که خودش هویت قانونی دارد. الف) شراکتی

۶-۲) مشکل تأمین مالی ب) شخصی

۶-۳) نهادی قانونی برای انجام مأموریتی غیرتجاری، ج) شرکتی

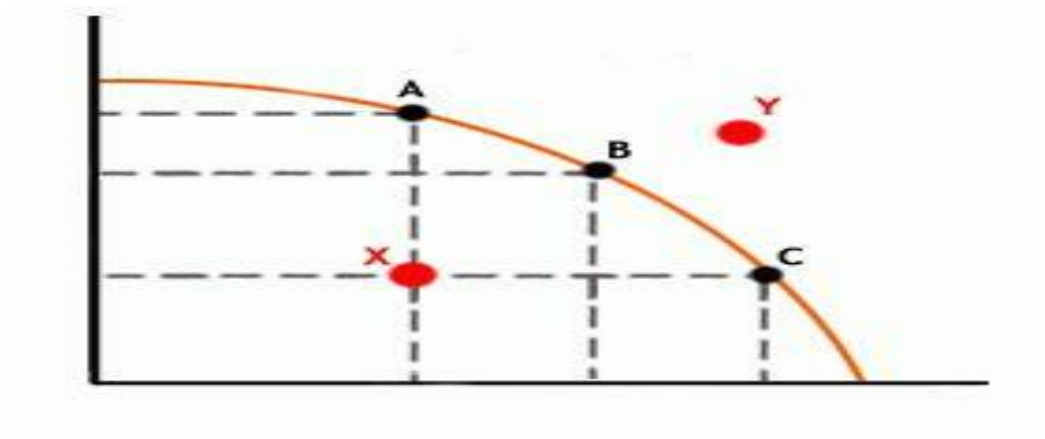
۶-۴) نحوه اداره آنها براساس هر نفر، یک رأی. د) تعاونی

ه) خیریه ها

۱/۵

۷

باتوجه به نمودار منحنی امکانات تولید زیر نقاط X و B و Y را تحلیل کنید.



۱

۸

با توجه به جدول زیر نمودار تقاضا را رسم نمایید.

تقاضای بستنی	قیمت بستنی
۱۶	۰
۱۴	۵۰۰
۱۱	۱۰۰۰
۸	۱۵۰۰
۵	۲۰۰۰
۲	۲۵۰۰
۰	۳۰۰۰

۱/۵

۹

در ارتباط با « مالیات » به سئوالات زیر پاسخ دهید:

الف) مهمترین نوع مالیات بردارایی چیست؟

ب) مهمترین نوع مالیات چیست؟

ج) هدف دولت از دریافت حقوق و عوارض گمرکی چیست؟ (دو مورد)

مجموع ۲۰ نمر

آرزوی ما موفقیت شماست جعفری

۵

مدت امتحان : ۵۰ دقیقه	رشته : علوم انسانی	سؤالات امتحان درس : اقتصاد
تاریخ امتحان : ۹۹/۱۰/۱۰	ساعت شروع : ۸ صبح	دبیرستان :
آزمون: نوبت دوم		

### پاسخنامه

۱/۵	<p>غلط یا صحیح بودن عبارات زیر را مشخص کنید</p> <p>(۱-۱) یک کارآفرین موفق ضرورتاً از ابتدا حتی کارآفرین نبوده است. <input type="radio"/> ص <input type="radio"/> غ</p> <p>(۱-۲) با الگوی مرز امکانات تولید میتوان مفاهیم هزینه فرصت ، کارایی و کمیابی منابع تولید را بطور همزمان توضیح داد. <input type="radio"/> غ <input type="radio"/> ص</p> <p>(۱-۳) مرز امکانات تولید مرزی است که صرفاً بیانگر توانایی تولید یک کسب و کار با استفاده از منابع موجود و در دسترس می باشد. <input type="radio"/> ص <input type="radio"/> غ</p>	۱
۳	<p>جای خالی را با کلمات مناسب تکمیل کنید</p> <p>(۲-۱) اگر اقتصاد بتواند دقیقاً روی ..... <b>منحنی مرز امکانات تولید</b>... تولید کند ، تولیدی کارا خواهد داشت؛</p> <p>(۲-۲) در اقتصاد هم الگوهایی وجود دارد که بسیاری از جزئیات .. <b>دنیای واقعی</b>. را رها می کند تا به ما کمک کند بر آنچه اهمیت دارد، متمرکز شویم؛</p> <p>(۲-۳) ..... و ..... ، دو بازیگر اصلی اقتصاد هستند. (<b>خانوار ها - بنگاه ها</b>) <b>ص ۴۷</b></p> <p>(۲-۴) بازی اقتصاد نیازمند یک داور است که به آن ..... می گویند. (<b>دولت</b>) <b>ص ۵۷</b></p> <p>(۲-۵) در طول تاریخ، کشورها برای دستیابی به اهداف اقتصادی، سیاسی و یا ایدئولوژیک خود دست به ..... دیگر کشورها زده اند. <b>۷(تحریم های اقتصادی) ص ۷۶</b></p>	۲
۱/۵	<p>باتوجه به سوال های زیر گزینه درست را انتخاب کنید.</p> <p>(۳-۱) به ترتیب اصل اول و چهارم انتخاب درست در کدام گزینه بیان شده است؟</p> <p>الف ) هزینه های در رفته را فراموش کنید. - هزینه فرصت هر انتخاب را محاسبه کنید.</p> <p><b>ب ) هزینه فرصت هر انتخاب را محاسبه کنید. - هزینه های در رفته را فراموش کنید.</b></p> <p>ج ) منابع کمیاب خود را شناسایی کنید. - قید بودجه خود را ترسیم کنید.</p> <p>د ) قید بودجه خود را ترسیم کنید. - منابع کمیاب خود را شناسایی کنید.</p> <p>(۳-۲) در ارتباط با منحنی امکانات تولید کدام گزینه نادرست می باشد؟</p> <p>الف : این منحنی را PPF نیز می نامند. <input type="radio"/></p> <p>ب : نقاط بالای این منحنی در کوتاه مدت قابل دسترسی نیستند. <input type="radio"/></p> <p>ج : این منحنی یک الگوی اقتصادی می باشد که اجازه می دهد درک بهتری از بده - بستان های یک کشور در استفاده از منابع کمیاب داشته باشیم. <input type="radio"/></p> <p><b>د : در نقاط کارای این منحنی افزایش تولید یک کالا بدون کاهش تولید کالای دیگر امکان پذیر است. <input type="radio"/></b></p> <p>(۳-۳) کدام گزینه بیانگر مفهوم جمله ی « چیزی به نام ناهار مجانی وجود ندارد .» می باشد؟</p> <p>الف: <b>هزینه فرصت اجتماع</b> <input type="radio"/></p> <p>ب: کارایی و ناکارایی <input type="radio"/></p> <p>ج: تخصیص بهینه منابع <input type="radio"/></p> <p>د: کمیابی منابع تولید <input type="radio"/></p>	۳
۵	<p>پاسخ کوتاه دهید</p> <p>(۴-۱) پیچیده ترین نوع کسب و کار چیست؟ (۵/نمره)</p> <p><b>شرکتی</b></p> <p>(۴-۲) قیمت تعادلی چیست؟ (۱نمره)</p> <p><b>قیمتی که مقدار عرضه و مقدار تقاضا در آن برابر می شوند</b></p>	۴

(۳-۴) قانون تقاضا را تعریف نمایید. (نمره) ۵۰  
مقدار تقاضا از یک کالا با قیمت آن رابطه عکس دارد. به طوری که با افزایش قیمت تقاضا کاهش یافته و بالعکس. به این رابطه، قانون تقاضا می گویند

(۴-۴) انواع مالیات مستقیم را نام ببرید. (نمره) ۵/۶ ص ۶۱ ۶

### مالیات بر درآمد و مالیات بر دارایی

(۴-۵) گام اول برای راه اندازی یک شرکت کسب و کار چیست؟ (۵/۱) کسب مجوز های لازم برای فعالیت اقتصادی خود از دولت

(۴-۶) دولت ها برای حمایت از صنایع داخلی خود و کاهش وابستگی اقتصادی به کشورهای دیگر چه کاری می توانند انجام دهند؟ (۵/۱) ص ۷۴  
تعرفه های گوناگونی بر واردات برخی از کالاها وضع می کنند.

(۴-۷) مفهوم « قید بودجه » چیست ؟ خط بودجه را تعریف کنید. (نمره)  
قید بودجه یعنی محدودیت بودجه. به عبارت دیگر یک مصرف کننده برای خرید کالاها و خدمات مورد نیاز خود، با محدودیت منابع مالی و پولی روبرو است

پاسخ کامل

۴/۵ نمره

(۵-۱) کارآفرین چه ویژگی های باید داشته باشد؟ (نمره) ۵ ص ۵

کسی که می خواهد کارآفرین باشد، باید مهارت های ابتکار عمل را داشته باشد تا بتواند با جمع کردن عوامل مختلف در کنار هم، کالا یا خدمتی را تولید کند. به همین دلیل کارآفرینی به تلاش و کار زیادی نیاز دارد تا کسب و کار را زنده نگه دارد. کار آفرین لازم است تا آگاهی و دانش زیادی برای اتخاذ تصمیمات مناسب درباره موقعیت شرکت، پیشنهاد محصول، قیمت گذاری، تبلیغات و استخدام نیروی کار داشته باشد. همچنین کارآفرین باید توانایی مالی لازم را برای راه اندازی کسب و کارش داشته باشد و بداند که در آغاز کارش ممکن است با موفقیت کمتر یا عدم موفقیت روبه رو شود.

(۵-۲) هزینه فرصت چیست و چرا معمولاً از دید ما پنهان است و آن را به حساب نمی آوریم؟ (نمره)  
هزینه فرصت یک انتخاب، ارزش بهترین گزینه بعدی است که فرد آن را هنگام انتخاب گزینه اول از دست داده اید. الف) چون فرد مستقیماً پولی را پرداخت نمی کند، لذا بعنوان هزینه در نظر نمی گیرد. ب) بدون مقایسه هزینه و منافع دست به انتخاب می زند.

(۵-۳) کالاها و خدمات عمومی را تعریف کنید. مثال بزنید. (نمره)  
به کالا و خدماتی که توسط افراد زیادی می تواند هم زمان استفاده شود و شما نمی توانید مردم را از استفاده آن محروم سازید، کالای عمومی گفته می شود. مانند: پارک ها، مترو

(۵-۴) چه دلایلی باعث می شود کشورها با یکدیگر وارد مبادله شوند؟ (۵/۱ نمره)

۱- یکسان نبودن منابع و عوامل تولید در کشورها ۲- یکسان نبودن کشورها از نظر دسترسی به فناوری ۳- تفاوت های اقلیمی و آب و هوایی،

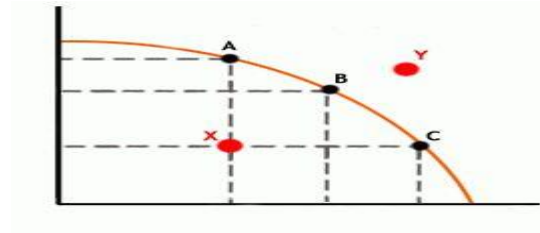
هر عبارت ستون سمت راست با کدام نوع از کسب و کار ستون سمت چپ ارتباط دارد. (یک مورد اضافی است.)

الف) شراکتی	۶-۱) کسب و کاری است که خودش هویت قانونی دارد.
ب) شخصی	۶-۲) مشکل تامین مالی
ج) شرکتی	۶-۳) نهادی قانونی برای انجام مأموریتی غیرتجاری،
د) تعاونی	۶-۴) نحوه اداره آنها براساس هر نفر، یک رای.
ه) خیریه ها	

۱

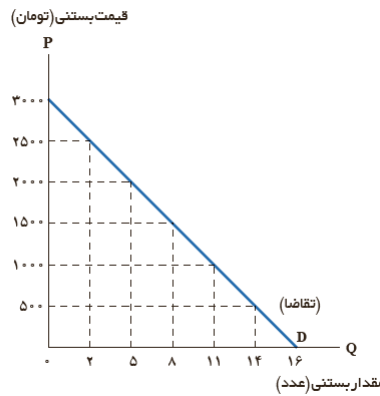
۶

باتوجه به نمودار منحنی امکانات تولید زیر نقاط X و B و Y را تحلیل کنید. ۴



نقطه B که روی منحنی مرز امکانات تولید قرار دارد از نقاط کار محسوب می شود چون در این نقاط از همه ظرفیت امکانات موجود برای تولید استفاده می شود  
 نقطه X که درون منحنی مرز امکانات تولید قرار دارد از نقاط ناکار محسوب می شود چون در این نقاط از همه ظرفیت امکانات موجود برای تولید استفاده نمی شود.  
 نقطه Y که بالاتر از منحنی مرز امکانات تولید قرار دارد ، در کوتاه مدت امکان دسترسی به آن وجود ندارد؛ زیرا منابع کافی برای تولید در این نقطه فراهم نیست.

با توجه به جدول زیر نمودار تقاضا را رسم نمایید. ۵ ص ۵



تقاضای بستنی	قیمت بستنی
۱۶	۰
۱۴	۵۰۰
۱۱	۱۰۰۰
۸	۱۵۰۰
۵	۲۰۰۰
۲	۲۵۰۰
۰	۳۰۰۰

در ارتباط با « مالیات » به سئوالات زیر پاسخ دهید: ۶  
 الف) مهمترین نوع مالیات بردارایی چیست؟ **مالیات بر ارزش**  
 ب) مهمترین نوع مالیات چیست؟ **مالیات بر درآمد**  
 ج) هدف دولت از دریافت حقوق و عوارض گمرکی چیست؟ (دو مورد) **۱) درآمدزایی دولت ها ۲) حمایت از صنایع داخلی**