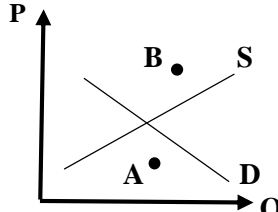
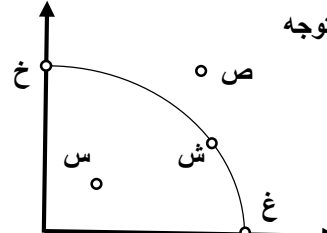


مهر امتحانات	تاریخ امتحان: 1400 / 10 / 29	مدیریت آموزش و پرورش ناحیه یک زاهدان دبیرستان نمونه المهدی (عج)	امتحان : اقتصاد نوبت : دی ماه
	مدت امتحان : 80 دقیقه		نام و نام خانوادگی :
	تعداد صفحات : 3	سال تحصیلی 1400 - 1401	کلاس :
	نام دبیر : مجید پودینه		پایه تحصیلی : دهم ادبیات و علوم انسانی

سوالات

بارم	ردیف	سوال
.15	1	<p>در عبارات زیر موارد <u>صحیح و غلط</u> را مشخص کنید.</p> <p>الف) تنها یک سوم از کسب و کارها می توانند از هفت سالگی عبور کنند و به کارشان ادامه دهند.</p> <p>ب) مهمترین نوع مالیات بر درآمد اشخاص است.</p> <p>ج) از معایب کسب و کار شخصی مسئولیت نامحدود در مقابل بدهی ها و دعاوی می باشد.</p>
.15	2	<p>جاهای خالی را با عبارات مناسب تکمیل کنید.</p> <p>الف) مبالغی را که تولیدکننده در جریان تولید صرف می کند ، می گویند .</p> <p>ب) تلاش برای به دست آوردن به معنای یافتن موقعیت هایی برای پیشرفت است.</p> <p>ج) سازمان وظیفه دارد کیفیت یا عدم کیفیت محصولات را تایید کند.</p>
.15	3	<p>گزینه صحیح را مشخص کنید.</p> <p>الف) با توجه به شکل به ترتیب از راست به چپ ، کدام گزینه در ارتباط با حروف (S - D - B - A) صحیح می باشد؟</p>  <p> <input type="checkbox"/> (1) مازاد عرضه - کمبود تقاضا - منحنی تقاضا - منحنی عرضه <input type="checkbox"/> (2) مازاد تقاضا - کمبود عرضه - منحنی عرضه - منحنی تقاضا <input type="checkbox"/> (3) مازاد عرضه - مازاد تقاضا - منحنی عرضه - منحنی تقاضا <input type="checkbox"/> (4) کمبود عرضه - کمبود تقاضا - منحنی تقاضا - منحنی عرضه </p>
.15		<p>ب) با توجه به شکل به ترتیب از راست به چپ ، در نقاط (ص - ش - خ - س) شرکت با توجه به منابع موجود ، در چه وضعیتی به سر می برد؟</p>  <p> <input type="checkbox"/> (1) غیر قابل دسترس - حداکثر امکان تولید - حداکثر امکان تولید - ناکارایی <input type="checkbox"/> (2) غیر قابل دسترس - حداکثر امکان تولید - ناکارایی - ناکارایی <input type="checkbox"/> (3) حداکثر امکان تولید - ناکارایی - ناکارایی - غیر قابل دسترس <input type="checkbox"/> (4) ناکارایی - غیر قابل دسترس - حداکثر امکان تولید - ناکارایی </p>
.15		<p>ج) کدام کشورها در اواخر قرن هجدهم و اوایل قرن نوزدهم ، تعرفه های حمایتی متعددی بر کالاهای وارداتی وضع کردند؟</p> <p> <input type="checkbox"/> (1) کشورهای آلمان و اروپای شرقی و ایالات متحده <input type="checkbox"/> (2) کشورهای آلمان و اروپای غربی و ایالات متحده <input type="checkbox"/> (3) کشورهای چین و آسیای جنوب شرقی و ایالات متحده <input type="checkbox"/> (4) کشورهای روسیه و آلمان و آمریکای جنوبی </p>

4

به سوالات زیر پاسخ کوتاه بدهید.

الف) محدوده ی عمل موسسات غیرانتفاعی و خیریه چه اندازه است ؟

ب) شرکتهای تعاونی با چه هدفی تشکیل می شوند ؟

ج) هنگامی که فقط به دلیل اینکه حراج یا فروش ویژه اعلام شده ، خرید می کنیم! کدام اشتباه رایج در تصمیم گیری را مرتکب شده ایم؟

ی) چه عواملی باعث شده است تا اقتصاددانان به اهمیت خودکفایی در برخی تولیدات داخلی و عدم وابستگی برای تامین آنها از خارج تاکید کنند؟

مفاهیم زیر را توضیح دهید.

الف) سهام

ب) الگوی مرز امکانات تولید

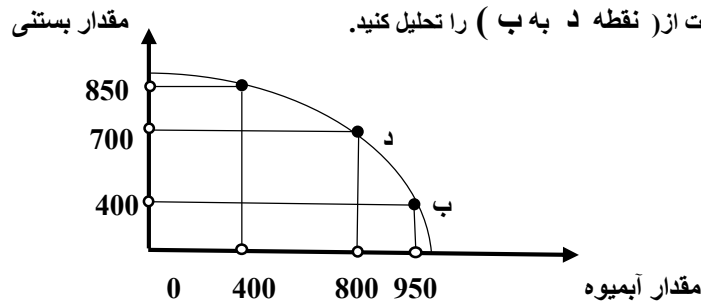
5

1

.5/

1/5

اگر شرکت به سمت چپ و بالا در طول مرز امکانات تولید جابه جا شود (از نقطه ب به نقطه د) ، هزینه فرصت ایجاد شده ، چگونه است ؟ فرض معکوس یعنی بده بستان تولید آبیوه بیشتر و حرکت از (نقطه د به ب) را تحلیل کنید.



6

1

دو مورد از عوامل موثر بر تصمیم تقاضاکنندگان در خرید یک کالا را بیان کرده ، بنویسید ابداعات و اختراعات چه اثری بر تولید و عرضه دارند؟

7

1

چهار مورد از نتایج کسب ثروت از راه های غیرقانونی و غیر شرعی را بنویسید.

8

1

چهار مورد از ویژگی های کارآفرینان موفق را بنویسید.

9

1

جدول زیر را با توجه به پرداخت هایی که بابت خرید منابع تولید به خانواده ها پرداخت می شود ، کامل کنید.

10

ردیف	عنوان	علت
1	دریافتی خاتوار بابت نیروی کار
2	دریافتی خاتوار بابت منابع طبیعی
3	دریافتی خاتوار بابت

1/5

دو نوع گسترده از انواع تصمیمات هنگام مقایسه منافع و هزینه ها کدامند؟ بیان کنید بهترین تصمیم به چه چیز بستگی دارد؟

11

12

1/5

هریک از موارد زیر را تحلیل کنید و مشخص کنید که آیا این تغییر می تواند یک فعالیت اقتصادی را که مشمول مالیات می شود ، تشویق یا دلسرد کند؟ پاسخ را توضیح دهید.

الف) دولت بر غذاهایی که حاوی سطوح بالای چربی و سطح بالایی از سدیم هستند ، مالیات اعمال می کند.

ب) دولت مالیات 1000 تومانی بر بطری های و قوطی های پلاستیکی وضع می کند.

13

1/5

هر کدام از موارد ستون اول با کدامیک از موارد ستون دوم مرتبط است؟

ستون اول	ستون دوم
الف) آدم اسمیت :	(1) نظام اقتصادی سوسیالیستی
ب) دولت ها موظف هستند با قراردادن قوانینی سخت گیرانه بر مالکیت و سرمایه اندوزی از اقشار ضعیف حمایت کنند :	(2) نظام اقتصادی مارکسیستی
ج) کارگران تنها طبقه ای هستند که حق دارند سازوکارهای حاکم بر میدان اقتصاد را تعیین کنند :	(3) نظام اقتصادی اسلام
د) بازیگر اصلی در میدان اقتصاد ، بازار است :	(4) نظام اقتصادی سرمایه داری
ی) افزایش رفاه اقتصادی یک نفر مقید به افزایش رفاه اقتصادی دیگران است :	
و) رقابت آزادانه در بازار باعث می شود تا اقتصاد کارایی بیشتری داشته باشد :	

14

1

هر کدام از گزاره های زیر را در یکی از منابع کمیاب (منابع طبیعی ، نیروی کار ، سرمایه فیزیکی و سرمایه انسانی) طبقه بندی کنید.

منابع کمیاب	گزاره
	باغچه خانه که در آن سبزی کاشته اید.
	ابزار آلات باغبانی که از آنها استفاده می کنید.
	باغبانی که برای هرس کردن درختان باغچه استخدام می کنید.
	علم و دانشی که در مدرسه کسب می کنید.

15

1

درآمد و هزینه های کارگاه ایثار به شرح زیر می باشد:

- خرید مواد اولیه برای تولید سالیانه : 400 میلیون تومان
 - پول آب ، برق ، گاز و تلفن هر شش ماه : 50 میلیون تومان
 - دستمزد ماهانه هر کارگر : پنج میلیون تومان (مجموعاً 15 کارگر)
 - عوارض شهرداری و مالیات سالانه یک سوم حقوق و دستمزد سالیانه شرکت
 - درآمد کارگاه هر چهار ماه : 700 میلیون تومان
- ضمناً صاحب کارگاه می توانست به جای احداث کارگاه ، در یک اداره دولتی با حقوق ماهیانه 10 میلیون تومان ، استخدام شود و کارگاه خود را نیز ماهانه 30 میلیون اجاره دهد. با توجه به توضیحات داده شده :
- سود و یا زیان ویژه (اقتصادی) سالانه کارگاه ایثار چقدر بوده است؟

20

جمع نمره

موفق باشید.