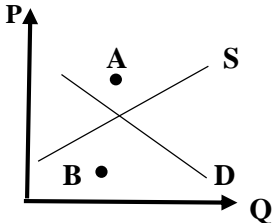
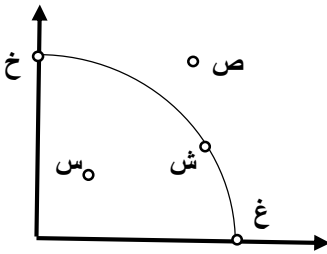


مهر امتحانات	تاریخ امتحان : 1400 / 10 / 25	مدیریت آموزش و پرورش ناحیه یک زاهدان دبیرستان تیزهوشان شهید بهشتی (2)	امتحان : اقتصاد
	مدت امتحان : 80 دقیقه		نوبت : دی ماه
	تعداد صفحات : 3	سال تحصیلی 1401 - 1400	نام و نام خانوادگی :
	نام دبیر : مجید پودینه		کلاس :
			پایه تحصیلی : دهم ادبیات و علوم انسانی

سوالات

بارم	ردیف	سوال
.15	1	در عبارات زیر موارد <u>صحیح و غلط</u> را مشخص کنید. الف) به پولی که تولید کننده با فروش محصولات خود بدست می آورد سود می گویند. ب) اولین و مهمترین هدف مالیات افزایش درآمد دولت است. ج) آمریکا - برزیل - مکزیک پیمان نفتا را در سال 1992 م امضاء کردند.
.15	2	جاهای خالی را با عبارات مناسب تکمیل کنید. الف) امروزه در ایران از هر ده نفر ، نفر از یکی از شبکه های اجتماعی استفاده می کنند. ب) تلاش برای بدست آوردن به معنای یافتن موقعیت هایی برای پیشرفت است. ج) سهام یک سند است.
.15	3	گزینه صحیح را مشخص کنید. الف) به ترتیب در نقطه A و B بازار دچار چه وضعیتی است ؟ 
.15		<input type="checkbox"/> (1) مازاد عرضه و کمبود تقاضا <input type="checkbox"/> (2) مازاد تقاضا و کمبود عرضه <input type="checkbox"/> (3) مازاد عرضه و مازاد تقاضا <input type="checkbox"/> (4) کمبود عرضه و کمبود تقاضا
.15		ب) با توجه به شکل به ترتیب کدام نقطه ، نقطه غیر قابل دسترسی و درکدام نقطه ناکارایی با توجه به منابع موجود ، وجود دارد ؟ 
.15		<input type="checkbox"/> (1) خ و ش <input type="checkbox"/> (2) ص و س <input type="checkbox"/> (3) ش و س <input type="checkbox"/> (4) غ و خ
.15	4	ج) در دوره بین دو جنگ جهانی ، کارگران و تولیدکنندگان ، کنگره آمریکا را متقاعد به افزایش تعرفه های گمرکی تا چند درصد کردند ؟ <input type="checkbox"/> (1) 38 درصد <input type="checkbox"/> (2) 46 درصد <input type="checkbox"/> (3) 52 درصد <input type="checkbox"/> (4) 60 درصد
.15		به سوالات زیر پاسخ کوتاه بدهید. الف) موسسات غیرانتفاعی و خیریه با چه هدفی تشکیل می شوند ؟ ب) مهمترین نوع مالیات بر دارایی چیست ؟ ج) توزیع سود احتمالی در شرکت های تعاونی چگونه است ؟ د) وقتی غذایی را که سفارش داده شده دوست نداریم ، اما به خاطر پولی که داده ایم تا آخرش می خوریم ، کدام اشتباه رایج در تصمیم گیری را مرتکب شده ایم ؟ ی) به چه دلیلی همیشه بین گزینه های انتخاب باید ((بده - بستان)) کرد ؟

5 مفاهیم زیر را توضیح دهید.

الف) قید بودجه

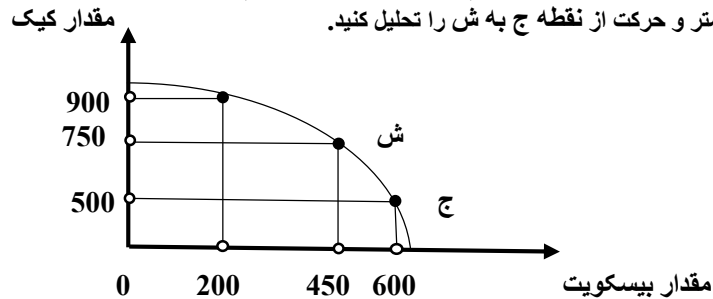
ب) کارآفرین

ج) الگو

1
1
/5

1/5

6 اگر شرکت به سمت راست و پایین در طول مرز امکانات تولید جابه جا شود (از نقطه ش به نقطه ج)، هزینه فرصت ایجاد شده، چگونه است؟ فرض معکوس یعنی بده بستن تولید کیک بیشتر و حرکت از نقطه ج به ش را تحلیل کنید.



7 چهار مورد از عوامل موثر بر تصمیم تقاضا کنندگان در خرید یک کالا را بنویسید.

8 تولیدکنندگان برای جلوگیری از ضرر چه اقداماتی انجام می دهند؟

9 چهار مورد از مزایای ایجاد شرکت سهامی را بنویسید.

10 جدول زیر را با توجه به پرداخت هایی که بابت خرید منابع تولید به خانواده ها پرداخت می شود، کامل کنید.

ردیف	عنوان	علت
1	دریافتی خانوار بابت
2	دریافتی خانوار بابت منابع طبیعی
3	دریافتی خانوار بابت سرمایه

11 درآمد و هزینه های شرکت امید به شرح زیر می باشد:

- خرید مواد اولیه برای تولید سه ماهه : 150 میلیون تومان

- پول آب، برق، گاز و تلفن هر چهار ماه : 20 میلیون تومان

- عوارض شهرداری و مالیات سالانه 340 میلیون تومان

- دستمزد ماهانه هر کارگر : پنج میلیون تومان (مجموعاً 30 کارگر)

- درآمد سه ماهه شرکت : 900 میلیون تومان

ضمناً صاحب شرکت می تواند به جای احداث شرکت، در یک اداره دولتی با حقوق ماهیانه 15 میلیون تومان، استخدام شود و شرکت خود را نیز ماهانه 65 میلیون اجاره دهد. با توجه به توضیحات داده شده :

الف) هزینه های مستقیم سالانه شرکت امید چقدر می باشد؟

ب) هزینه های غیر مستقیم (فرصت) سالانه شرکت امید چقدر می باشد؟

ج) سود و یازیان ویژه (اقتصادی) سالانه شرکت امید چقدر بوده است؟

2

با توجه به جدول زیر ، که مراحل چهارگانه تولید و تکمیل تا مصرف نهایی لباس و ارزش کالا در مراحل مختلف را با احتساب 10 درصد مالیات بر ارزش افزوده و بدون احتساب مالیات بر ارزش افزوده را نشان می دهد :

فروش لباس توسط مغازه دار	تولید لباس توسط شرکت دوزندگی	تولید پارچه توسط شرکت نساجی	تولید پنبه توسط کشاورز	مراحل چهارگانه تولید
50000 تومان	30000 تومان	15000 تومان	2000 تومان	قیمت فروش بدون احتساب مالیات بر ارزش افزوده
55000 تومان	33000 تومان	16500 تومان	2200 تومان	قیمت فروش با 10 درصد مالیات بر ارزش افزوده

الف) مالیات بر ارزش افزوده جمع آوری شده توسط شرکت نساجی چقدر می باشد؟

ب) خالص مالیات بر ارزش افزوده جمع آوری شده توسط شرکت نساجی چقدر می باشد؟

ج) مجموع مالیات بر ارزش افزوده جمع آوری شده چقدر می باشد؟

هر یک از موارد زیر مربوط به کدام یک از نظام های اقتصادی است؟

الف) رقابت آزادانه در بازار باعث می شود تا اقتصاد کارایی بیشتری داشته باشد :

ب) دولت ها موظف هستند با قراردادن قوانینی سخت گیرانه بر مالکیت و سرمایه اندوزی از اقشار ضعیف حمایت کنند :

ج) کارگران تنها طبقه ای هستند که حق دارند سازوکارهای حاکم بر میدان اقتصاد را تعیین کنند :

