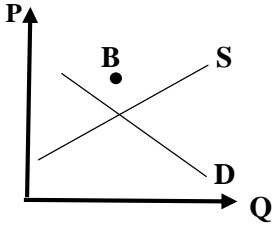
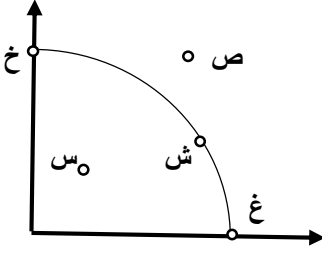


| | | | |
|--------------|------------------------------|---|--|
| مهر امتحانات | تاریخ امتحان: 1400 / 10 / 20 | مدیریت آموزش و پرورش ناحیه یک زاهدان دبیرستان نمونه ولی عصر (عج) | امتحان : اقتصاد |
| | مدت امتحان : 80 دقیقه | | نوبت : دی ماه |
| | تعداد صفحات : 3 | سال تحصیلی 1400 - 1401 | نام و نام خانوادگی : |
| | نام دبیر : مجید پودینه | | کلاس : |
| | | | پایه تحصیلی : دهم ادبیات و علوم انسانی |

سوالات

| بارم | ردیف | سوال |
|------|------|--|
| .15 | 1 | در عبارات زیر موارد <u>صحیح و غلط</u> را مشخص کنید. الف) به پولی که تولید کننده با فروش محصولات خود بدست می آورد ، درآمد می گویند. |
| .15 | | ب) انواع عوارض درج شده در قبض های شهرداری مالیات تلقی می شود. |
| .15 | 2 | ج) اگر اصل مزیت مطلق و نسبی رعایت نشود با تولید محصولات کمتر و بی کیفیت تر رفاه جامعه کاهش می یابد. جاهای خالی را با عبارات مناسب تکمیل کنید. |
| .15 | | الف) امروزه در ایران از هر ده نفر ، نفر از یکی از شبکه های اجتماعی استفاده می کنند. |
| .15 | | ب) علامت اختصاری منحنی مرز امکانات تولید ، است. |
| .15 | | ج) شرکت کسب و کاری است که خودش هویت دارد. |
| .15 | 3 | گزینه صحیح را مشخص کنید. الف) در نقطه B بازار دچار چه وضعیتی است ؟ |
| | |  |
| | | <input type="checkbox"/> (1) مازاد عرضه و کمبود تقاضا <input type="checkbox"/> (2) مازاد تقاضا و کمبود عرضه <input type="checkbox"/> (3) مازاد عرضه و مازاد تقاضا <input type="checkbox"/> (4) کمبود عرضه و کمبود تقاضا |
| .15 | | ب) با توجه به شکل در کدام نقطه ، با توجه به منابع موجود ناکارایی ، وجود دارد؟ |
| | |  |
| | | <input type="checkbox"/> (1) ش <input type="checkbox"/> (2) س <input type="checkbox"/> (3) ص <input type="checkbox"/> (4) غ و خ |
| .15 | | ج) کشور انگلستان در سال 1701 م کدام قانون را به منظور حمایت از صنعت منسوجات داخلی خود تصویب کرد؟ |
| | | <input type="checkbox"/> الف) ممنوع کردن واردات پوشاک با ابریشم ایرانی یا هندی یا چینی <input type="checkbox"/> ب) ممنوع کردن واردات پوشاک از همه کشورها <input type="checkbox"/> ج) معافیت مالیاتی <input type="checkbox"/> د) پرداخت یارانه به صنعت منسوجات |
| .15 | 4 | به سوالات زیر پاسخ کوتاه بدهید. |
| .15 | | الف) مهمترین نوع مالیات چیست ؟ |
| .15 | | ب) موسسات غیرانتفاعی و خیریه با چه هدفی تشکیل می شوند ؟ |
| .15 | | ج) محدوده ی عمل موسسات غیرانتفاعی و خیریه چه اندازه است ؟ |
| .15 | | د) هنگامی که با پرهیز از بررسی گزینه های جدید با رویکرد منطقی هزینه - فایده تصمیم می گیریم ، کدام اشتباه رایج در تصمیم گیری را مرتکب شده ایم؟ |

5

مفاهیم زیر را توضیح دهید.

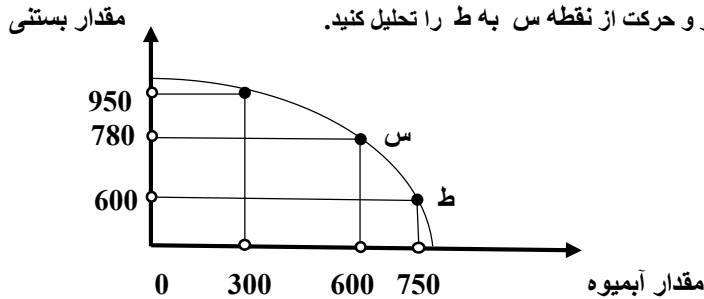
الف) کارآفرین

ب) الگوی مرز امکانات تولید

1
/5

6

اگر شرکت به سمت چپ و بالا در طول مرز امکانات تولید جابه جا شود (از نقطه ط به نقطه س) ، هزینه فرصت ایجاد شده ، چگونه است ؟ فرض معکوس یعنی بده بستان تولید آبمیوه بیشتر و حرکت از نقطه س به ط را تحلیل کنید.



1/5

7

دو مورد از عوامل موثر بر تصمیم عرضه کنندگان در تولید یک کالا را بیان کرده ، بنویسید ابداعات و اختراعات چه اثری بر تولید و عرضه دارند؟

1

8

چهار مورد از نتایج کسب ثروت از راه های غیرقانونی و غیر شرعی را بنویسید.

1

9

چهار مورد از مزایای کسب و کار شخصی را بنویسید.

1

10

دو نوع گسترده از انواع تصمیمات هنگام مقایسه منافع و هزینه ها کدامند؟ بیان کنید بهترین تصمیم به چه چیز بستگی دارد؟

1/5

11

جدول زیر را با توجه به پرداخت هایی که بابت خرید منابع تولید به خانواده ها پرداخت می شود ، کامل کنید.

1

| ردیف | عنوان | علت |
|------|-------|-------------------------------|
| 1 | | دریافتی خانوار بابت نیروی کار |
| 2 | | دریافتی خانوار بابت |
| 3 | | دریافتی خانوار بابت سرمایه |

درآمد و هزینه های شرکت پگاه به شرح زیر می باشد:

- خرید مواد اولیه برای تولید سالیانه : 900 میلیون تومان
- پول آب ، برق ، گاز و تلفن هر سه ماه : 25 میلیون تومان
- دستمزد ماهانه هر کارگر : چهار میلیون تومان (مجموعاً 35 کارگر)
- عوارض شهرداری و مالیات سالانه یک چهارم حقوق و دستمزد سالیانه شرکت
- درآمد شرکت هر سه ماه : 900 میلیون تومان

ضمناً صاحب شرکت می توانست به جای احداث شرکت ، در یک اداره دولتی با حقوق ماهیانه 10 میلیون تومان ، استخدام شود و شرکت خود را نیز ماهانه 45 میلیون اجاره دهد. با توجه به توضیحات داده شده :

الف) هزینه های مستقیم سالانه شرکت پگاه چقدر می باشد؟

ب) هزینه های غیر مستقیم (فرصت) سالانه شرکت پگاه چقدر می باشد؟

ج) سود و یا زیان ویژه (اقتصادی) سالانه شرکت پگاه چقدر بوده است؟

با توجه به جدول زیر ، که مراحل چهارگانه تولید و تکمیل تا مصرف نهایی لباس و ارزش کالا در مراحل مختلف را با احتساب 10 درصد مالیات بر ارزش افزوده و بدون احتساب مالیات بر ارزش افزوده را نشان می دهد :

| فروش لباس توسط مغازه دار | تولید لباس توسط شرکت دوزندگی | تولید پارچه توسط شرکت نساجی | تولید پنبه توسط کشاورز | مراحل چهارگانه تولید |
|--------------------------|------------------------------|-----------------------------|------------------------|---|
| 100000 تومان | 75000 تومان | 30000 تومان | 5000 تومان | قیمت فروش بدون احتساب مالیات بر ارزش افزوده |
| 110000 تومان | 82500 تومان | 33000 تومان | 5500 تومان | قیمت فروش با 10 درصد مالیات بر ارزش افزوده |

الف) مالیات بر ارزش افزوده جمع آوری شده توسط شرکت دوزندگی چقدر می باشد؟

ب) خالص مالیات بر ارزش افزوده جمع آوری شده توسط شرکت دوزندگی چقدر می باشد؟

ج) مجموع مالیات بر ارزش افزوده جمع آوری شده چقدر می باشد؟

هرکدام از موارد ستون اول با کدامیک از موارد ستون دوم مرتبط است؟

| ستون دوم | ستون اول |
|-----------------------------|---|
| 1) نظام اقتصادی سوسیالیستی | الف) رقابت آزادانه در بازار باعث می شود تا اقتصاد کارایی بیشتری داشته باشد : ب) دولت ها موظف هستند با قراردادن قوانینی سخت گیرانه بر مالکیت و سرمایه اندوزی از اقشار ضعیف حمایت کنند : ج) کارگران تنها طبقه ای هستند که حق دارند سازوکارهای حاکم بر میدان اقتصاد را تعیین کنند : د) بازیگر اصلی در میدان اقتصاد ، بازار است : ی) افزایش رفاه اقتصادی یک نفر مقید به افزایش رفاه اقتصادی دیگران است : و) آدام اسمیت : |
| 2) نظام اقتصادی مارکسیستی | |
| 3) نظام اقتصادی اسلام | |
| 4) نظام اقتصادی سرمایه داری | |

جمع نمره

موفق باشید.