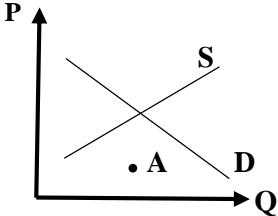
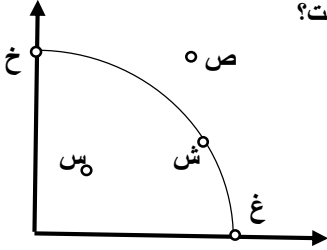


مهر امتحانات	تاریخ امتحان : 1400 / 10 / 21	مدیریت آموزش و پرورش ناحیه یک زاهدان دبیرستان دکتر حسابی	امتحان : اقتصاد
	مدت امتحان : 80 دقیقه		نوبت : دی ماه
	تعداد صفحات : 2	سال تحصیلی 1401 - 1400	نام و نام خانوادگی :
	نام دبیر : مجید پودینه		کلاس :
			پایه تحصیلی : دهم ادبیات و علوم انسانی

بارم	سوالات	ردیف
------	--------	------

.15	در عبارات زیر موارد <u>صحیح و غلط</u> را مشخص کنید. الف) امروزه اغلب کسب و کارها در ایران شخصی هستند.	1
.15	ب) مالیات های مستقیم خود به دو دسته مالیات بر دارایی و مالیات بر درآمد تقسیم می شود.	
.15	ج) عامل امضای پیمان های تجاری و یا نقض آنها حفاظت از منابع ملی می باشد.	
	جاهای خالی را با عبارات مناسب تکمیل کنید.	2
.15	الف) تنها ..... از کسب و کارها می توانند از ..... عبور کنند و به کارشان ادامه دهند.	
.15	ب) منحنی مرز امکانات تولید نشان دهنده ی ..... است.	
.15	ج) تفاوت مفهومی شکل های مختلف کسب و کار در مفهومی به نام ..... است.	
.15	گزینه صحیح را مشخص کنید. الف) در نقطه A بازار دچار چه وضعیتی است ؟	3
		
	<input type="checkbox"/> (1) مازاد عرضه و کمبود تقاضا <input type="checkbox"/> (2) مازاد تقاضا و کمبود عرضه <input type="checkbox"/> (3) مازاد عرضه و مازاد تقاضا <input type="checkbox"/> (4) کمبود عرضه و کمبود تقاضا	
.15	ب) با توجه به شکل کدام نقطه ، نقطه غیر قابل دسترسی با توجه به منابع موجود ، است ؟	
		
	<input type="checkbox"/> (1) خ <input type="checkbox"/> (2) ص <input type="checkbox"/> (3) س <input type="checkbox"/> (4) ش	
.15	ج) کدام گروه از کشورها جزء امضاء کنندگان پیمان <u>نفتا</u> در سال 1992 م بودند؟	4
	<input type="checkbox"/> (1) آمریکا - برزیل - مکزیک <input type="checkbox"/> (2) آمریکا - کانادا - مکزیک <input type="checkbox"/> (3) آمریکا - برزیل - کانادا <input type="checkbox"/> (4) کانادا - برزیل - مکزیک	
	به سوالات زیر پاسخ کوتاه بدهید.	
.15	الف) شرکت های تعاونی با چه هدفی تشکیل می شوند؟	
.15	ب) بارزترین نمونه ی مالیات بر مصرف در ایران چیست ؟	
.15	ج) نحوه اداره تعاونی چگونه است ؟	
.15	د) وقتی دوره آموزشی بی کیفیتی را چون پول داده ایم تا آخری رویم ، کدام اشتباه رایج در تصمیم گیری را مرتکب شده ایم؟	
.15	ی) مفهوم هزینه هدر رفته را به چه چیز می توان تشبیه کرد؟	

5 مفاهیم زیر را تعریف کنید.

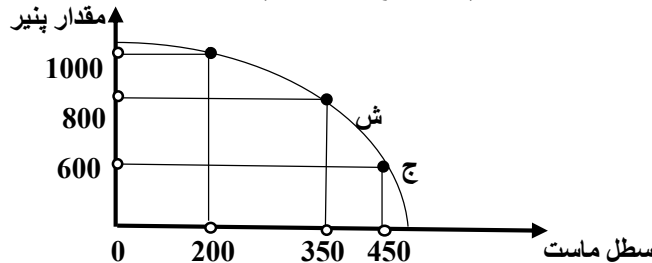
الف) هزینه فرصت یک انتخاب

ب) کالای مکمل

ج) کارایی

1  
1  
1

6 اگر شرکت به سمت چپ و بالا در طول مرز امکانات تولید جابه جا شود ( از نقطه ج به نقطه ش ) ، هزینه فرصت ایجاد شده ، چگونه است ؟



1

7 چهار مورد از ویژگی های کارآفرین موفق را بنویسید.

1

8 تولیدکنندگان برای جلوگیری از ضرر چه اقداماتی انجام می دهند؟

1

9 چهار مورد از معایب ایجاد شرکت سهامی را بنویسید.

1

10 جدول زیر را با توجه به پرداخت هایی که بابت خرید منابع تولید به خانواده ها پرداخت می شود ، کامل کنید.

ردیف	عنوان	علت
1	.....	دریافتی خانوار بابت .....
2	.....	دریافتی خانوار بابت منابع طبیعی
3	.....	دریافتی خانوار بابت سرمایه

1/5

11 مهمترین اهداف دولت از گرفتن مالیات چیست؟ ( 3 مورد )

1/5

12 هر یک از موارد زیر مربوط به کدام یک از نظام های اقتصادی است؟

الف) بازیگر اصلی در میدان اقتصاد ، بازار است :

ب) کارگران تنها طبقه ای هستند که حق دارند سازوکارهای حاکم بر میدان اقتصاد را تعیین کنند :

ج) افزایش رفاه اقتصادی یک نفر مقید به افزایش رفاه اقتصادی دیگران است :

2

13 هر کدام از گزاره های زیر را در یکی از منابع کمیاب ( منابع طبیعی ، نیروی کار ، سرمایه فیزیکی و سرمایه انسانی ) طبقه بندی کنید.

منابع کمیاب	گزاره
	باغچه خانه که در آن سبزی کاشته اید.
	ابزار آلات باغبانی که از آنها استفاده می کنید.
	باغبانی که برای هرس کردن درختان باغچه استخدام می کنید.
	علم و دانشی که در مدرسه کسب می کنید.

20

جمع نمره

موفق باشید.