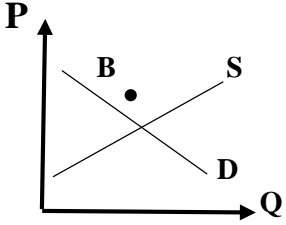
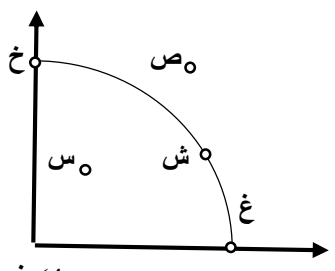


مهر امتحانات	تاریخ امتحان: 1402/10/6	مدیریت آموزش و پرورش ناحیه یک زاهدان دبیرستان نمونه المهدی (عج)	امتحان: اقتصاد
	ساعت شروع: 7/30 صبح		نوبت: دی ماه
	مدت امتحان: 80 دقیقه	سال تحصیلی 1402 - 1403	نام و نام خانوادگی:
	تعداد صفحات: 3		کلاس:
نام دبیر: مجید پودینه			پایه تحصیلی: دهم ادبیات و علوم انسانی

بارم	سوالات	ردیف
.5	در عبارات زیر موارد <u>صحیح و غلط</u> را مشخص کنید.	1
.5	الف) شرکت کسب و کاری است که خودش هویت قانونی دارد.	
.5	ب) انواع عوارض درج شده در قبض های شهرداری مالیات تلقی می شود.	
.5	ج) اگر اصل مزیت مطلق و نسبی رعایت نشود با تولید محصولات کمتر و بی کیفیت تر رفاه جامعه کاهش می یابد.	2
	جاهای خالی را با عبارات مناسب تکمیل کنید.	
.5	الف) امروزه در ایران از هر ده نفر ، نفر از یکی از شبکه های اجتماعی استفاده می کنند.	
.5	ب) در کشور ما شرکت های خودرویی به دلایل انحصارگر در فروش کالای خود به شمار می روند.	
.5	ج) به پولی که تولید کننده با فروش محصولات خود بدست می آورد ، می گویند.	
.5	گزینه صحیح را مشخص کنید.	3
	الف) در نقطه B بازار دچار چه وضعیتی است ؟	
		
	<input type="checkbox"/> (1) مازاد عرضه و کمبود تقاضا <input type="checkbox"/> (2) مازاد تقاضا و کمبود عرضه <input type="checkbox"/> (3) مازاد عرضه و مازاد تقاضا <input type="checkbox"/> (4) کمبود عرضه و کمبود تقاضا	
.5	ب) با توجه به شکل در کدام نقطه با توجه به منابع موجود ، ناکارایی وجود دارد؟	
		
	<input type="checkbox"/> (1) ش <input type="checkbox"/> (2) س <input type="checkbox"/> (3) ص <input type="checkbox"/> (4) غ و خ	
.5	ج) کشور انگلستان در سال 1701 م کدام قانون را به منظور حمایت از صنعت منسوجات داخلی خود تصویب کرد؟	
	<input type="checkbox"/> (1) معافیت مالیاتی <input type="checkbox"/> (2) پرداخت یارانه به صنعت منسوجات <input type="checkbox"/> (3) ممنوع کردن واردات پوشاک با ابریشم ایرانی یا هندی یا چینی <input type="checkbox"/> (4) ممنوع کردن واردات پوشاک از همه کشورها	
	به سوالات زیر پاسخ کوتاه بدهید.	4
.5	الف) مهمترین نوع ، انواع مالیاتها چیست ؟	
.5	ب) امروزه بسیاری از کسب و کارها در ایران به چه شکلی هستند ؟	
.5	ج) محدوده ی عمل موسسات غیرانتفاعی و خیریه چه اندازه است ؟	
.5	د) هنگامی که با پرهیز از بررسی گزینه های جدید با رویکرد منطقی هزینه - فایده تصمیم می گیریم ، کدام اشتباه رایج در تصمیم گیری را مرتکب شده ایم؟	

5

مفاهیم زیر را توضیح دهید.

الف) تعادل در بازار

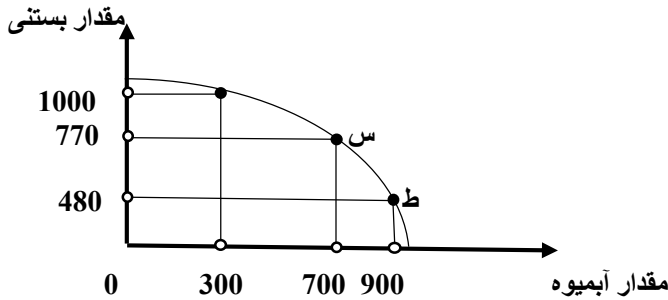
ب) الگوی مرز امکانات تولید

1

.5/

6

اگر شرکت به سمت چپ و بالا در طول مرز امکانات تولید جابه جا شود (از نقطه ط به نقطه س)، هزینه فرصت ایجاد شده، چگونه است؟



1

دو مورد از عوامل موثر بر تصمیم عرضه کنندگان در تولید یک کالا را بیان کرده، بنویسید ابداعات و اختراعات چه اثری بر تولید و عرضه دارند؟

7

1

تفاوت دو نوع مالیات مستقیم و غیر مستقیم در چیست؟

8

2

چهار مورد از مزایای ایجاد شرکت (سهامی) را بنویسید.

9

1

دو نوع گسترده از انواع تصمیمات هنگام مقایسه منافع و هزینه ها کدامند؟ بیان کنید بهترین تصمیم به چه چیز بستگی دارد؟

10

1

جدول زیر را با توجه به پرداخت هایی که بابت خرید منابع تولید به خانواده ها پرداخت می شود، کامل کنید.

11

ردیف	عنوان	علت
1	دریافتی خانوار بابت نیروی کار
2	دریافتی خانوار بابت منابع طبیعی
3	دریافتی خانوار بابت.....

1/5

چه عواملی موجب می شود تا دولت ها در شرایط گوناگون، برخوردهای گوناگون و گاه متعارضی با مسئله تجارت بین الملل داشته باشند؟

12

چرا در فضای جهانی اقتصاد تک محصولی ، اقتصادی شکننده و آسیب پذیر است؟

1

درآمد و هزینه های شرکت نگاران به شرح زیر می باشد:

- خرید مواد اولیه برای تولید سالیانه : 900 میلیون تومان
- پول آب ، برق ، گاز و تلفن هر سه ماه : 25 میلیون تومان
- دستمزد ماهانه هر کارگر : چهار میلیون تومان (مجموعاً 35 کارگر)
- عوارض شهرداری و مالیات سالانه یک چهارم حقوق و دستمزد سالیانه شرکت
- درآمد شرکت هر سه ماه : 900 میلیون تومان

ضمناً صاحب شرکت می توانست به جای احداث شرکت ، در یک اداره دولتی با حقوق ماهیانه 10 میلیون تومان ، استخدام شود و شرکت خود را نیز ماهانه 45 میلیون اجاره دهد. با توجه به توضیحات داده شده :

(الف) هزینه های مستقیم سالانه شرکت نگاران چقدر می باشد؟

(ب) هزینه های غیر مستقیم (فرصت) سالانه شرکت نگاران چقدر می باشد؟

(ج) سود و یا زیان ویژه (اقتصادی) سالانه شرکت نگاران چقدر بوده است؟

1/5

با توجه به جدول زیر ، که مراحل چهارگانه تولید و تکمیل تا مصرف نهایی لباس و ارزش کالا در مراحل مختلف را با احتساب 10 درصد مالیات بر ارزش افزوده و بدون احتساب مالیات بر ارزش افزوده را نشان می دهد :

1/5

مراحل چهارگانه تولید	تولید پنبه توسط کشاورز	تولید پارچه توسط شرکت نساجی	تولید لباس توسط شرکت دوزندگی	فروش لباس توسط مغازه دار
قیمت فروش بدون احتساب مالیات بر ارزش افزوده	5000 تومان	30000 تومان	75000 تومان	100000 تومان
قیمت فروش با 10 درصد مالیات بر ارزش افزوده	5500 تومان	33000 تومان	82500 تومان	110000 تومان

(الف) مالیات بر ارزش افزوده جمع آوری شده توسط شرکت دوزندگی چقدر می باشد؟

(ب) خالص مالیات بر ارزش افزوده جمع آوری شده توسط شرکت دوزندگی چقدر می باشد؟

(ج) مجموع مالیات بر ارزش افزوده جمع آوری شده چقدر می باشد؟

20

جمع نمره

موفق باشید.