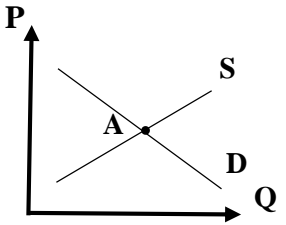
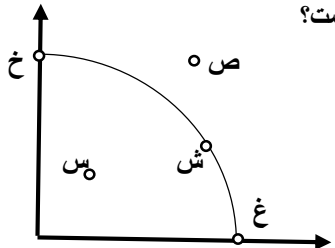


مهر امتحانات	تاریخ امتحان: 7 / 10 / 1402	مدیریت آموزش و پرورش ناحیه یک زاهدان دبیرستان دکتر حسابی	امتحان: اقتصاد
	ساعت شروع: 8 صبح		نوبت: دی ماه
	مدت امتحان: 75 دقیقه	سال تحصیلی 1402 - 1403	نام و نام خانوادگی:
	تعداد صفحات: 2		کلاس:
نام دبیر: مجید پودینه		پایه تحصیلی: دهم ادبیات و علوم انسانی	

بارم	سوالات	ردیف
.5	در عبارات زیر موارد <u>صحیح و غلط</u> را مشخص کنید.	1
.5	الف) تنها نیمی از کسب و کارها می توانند از هشت سالگی عبور کنند و به کارشان ادامه دهند.	
.5	ب) منحنی مرز امکانات تولید نشان دهنده ی حداکثر امکان تولید با منابع موجود است.	
.5	ج) تفاوت مفهومی شکل های مختلف کسب و کار در مفهومی به نام بهره وری است.	
	جاهای خالی را با عبارات مناسب تکمیل کنید.	2
.5	الف) امروزه اغلب کسب و کارها در ایران هستند.	
.5	ب) مالیات های مستقیم خود به دو دسته مالیات بر و مالیات بر تقسیم می شود.	
.5	ج) عامل امضای پیمان های تجاری و یا نقض آنها حفاظت از می باشد.	
.5	گزینه صحیح را مشخص کنید.	3
	الف) در نقطه A بازار دچار چه وضعیتی است؟	
		
	<input type="checkbox"/> (1) مازاد عرضه و کمبود تقاضا <input type="checkbox"/> (2) مازاد تقاضا و کمبود عرضه <input type="checkbox"/> (3) مازاد عرضه و مازاد تقاضا <input type="checkbox"/> (4) تعادل	
.5	ب) با توجه به شکل کدام نقطه ، نقطه غیر قابل دسترسی با توجه به منابع موجود ، است؟	
		
	<input type="checkbox"/> (1) خ <input type="checkbox"/> (2) ص <input type="checkbox"/> (3) ش <input type="checkbox"/> (4) ش	
.5	ج) کدام گروه از کشورها جزء امضاء کنندگان پیمان <u>نفتا</u> در سال 1992 م بودند؟	
	<input type="checkbox"/> (1) آمریکا - برزیل - مکزیک <input type="checkbox"/> (2) آمریکا - کانادا - مکزیک <input type="checkbox"/> (3) آمریکا - برزیل - کانادا <input type="checkbox"/> (4) کانادا - برزیل - مکزیک	
	به سوالات زیر پاسخ کوتاه بدهید.	4
.5	الف) انواع شرکتهای سهامی کدامند؟	
.5	ب) بارزترین نمونه ی مالیات بر مصرف در ایران چیست؟	
.5	ج) نحوه اداره تعاونی چگونه است؟	
.5	د) وقتی دوره آموزشی بی کیفیتی را چون پول داده ایم تا آخر می رویم ، کدام اشتباه رایج در تصمیم گیری را مرتکب شده ایم؟	
.5	ی) مفهوم هزینه هدر رفته را به چه چیز می توان تشبیه کرد؟	

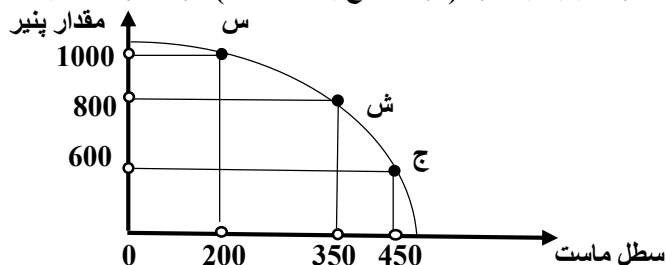
5

الف) بده - بستان
ب) کالای پست
ج) کالای عمومی

1
1
1

6

5./ اگر شرکت به سمت چپ و بالا در طول مرز امکانات تولید جابه جا شود (از نقطه ج به نقطه ش)، هزینه فرصت ایجاد شده، چگونه است؟



1

7 چهار مورد از ویژگی های کارآفرین موفق را بنویسید.

7

1

8 چرا در فضای جهانی، اقتصاد تک محصولی، اقتصادی شکننده و آسیب پذیر است؟

8

1

9 چهار مورد از مزایای کسب و کار شخصی را بنویسید.

9

1

10 جدول زیر را با توجه به پرداخت هایی که بابت خرید منابع تولید به خانواده ها پرداخت می شود، کامل کنید.

10

ردیف	عنوان	علت
1	دریافتی خانوار بابت نیروی کار
2	دریافتی خانوار بابت منابع طبیعی
3	دریافتی خانوار بابت

1/5

11 مهمترین اهداف دولت از گرفتن مالیات چیست؟ (3 مورد)

11

1/5

12 عوامل موثر در روی آوردن کشورها به تجارت بین الملل کدامند؟

12

1/5

13 عوامل بر تصمیم عرضه کنندگان در تولید یک کالا کدامند؟ ابداعات و اختراعات چه اثری بر تولید و عرضه دارند؟

13

1

14 هر کدام از گزاره های زیر را در یکی از منابع کمیاب (منابع طبیعی، نیروی کار، سرمایه فیزیکی و سرمایه انسانی) طبقه بندی کنید.

14

منابع کمیاب	گزاره
	باغچه خانه که در آن سبزی کاشته اید.
	ابزار آلات باغبانی که از آنها استفاده می کنید.
	باغبانی که برای هرس کردن درختان باغچه استخدام می کنید.
	علم و دانشی که در مدرسه کسب می کنید.

20

جمع نمره

موفق باشید.