
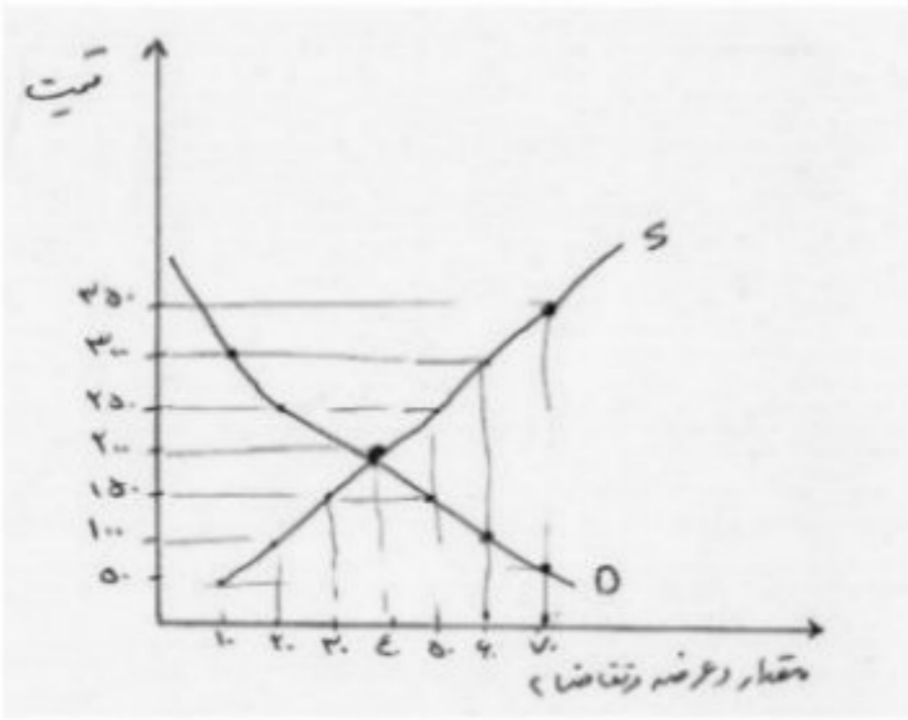



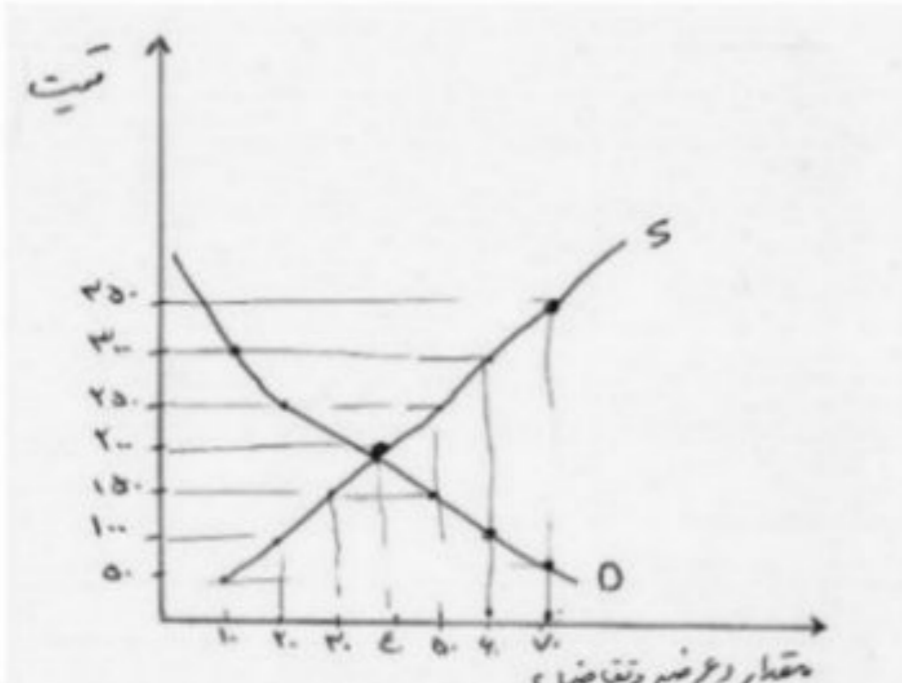
سوالات امتحان درس: اقتصاد		تاریخ امتحان: 1402/10/6
نام و نام خانوادگی:		مدت امتحان: ۸۰ دقیقه ساعت شروع: ۸ صبح
پایه / رشته تحصیلی: دهم انسانی		تعداد صفحات: ۳ تعداد سوال: ۱۵
شماره کلاس: نام آموزشگاه:		

ردیف	سوالات	بارم
۱	جملات صحیح و غلط را مشخص کنید. الف- مالیات بر مصرف از مالیات ستانی مضاعف جلوگیری می کند. ب- هزینه هایی که پرداخت شده و شما نمی توانید آن را برگردانید هزینه فرصت نام دارد. ج- افزایش بهره وری و پیشرفت تکنولوژی باعث جابه جا شدن در طول مرز امکانات تولید می شود. د- ابداعات و اختراعات معمولاً با کاهش هزینه ها اثر مثبتی بر مقدار تولید و عرضه دارند.	۱
۲	جاهای خالی را با کلمات مناسب پر کنید. الف- حقوق و عوارض گمرکی در واقع مالیات هر کشور بر صادرات و واردات کالای مختلف است که با نام نیز شناخته می شود. ب- کمیابی منابع هر جامعه را با مواجه می سازد. ج- کاغذ و کتاب کالای و اتوبوس و آژانس یک کالای هستند.	۲
۳	گزینه صحیح را انتخاب کنید. الف- بازار ماکارونی - فروشندگان آثار هنری به ترتیب اشاره به کدام نوع بازار دارند. رقابتی - مزایده رقابتی - مناقصه انحصاری - مزایده انحصاری - مناقصه ب- کدام یک از موارد زیر کار آفرینی محسوب می شود. کار در مغازه شیرینی فروشی دبیر رسمی اقتصاد فرمانده ارتش راه اندازی صبحانه در بوفه مدرسه حضرت آمنه	۱
۴	به سوالات زیر پاسخ کوتاه دهید. الف- تولید کنندگان چگونه می توانند از وضعیت زیان دوری کنند. ب- توزیع سود احتمالی در تعاونی ها بر چه اساسی است.	۱
۵	نوع مالیات را در هر یک از موارد زیر مشخص کنید. الف- مالیات بر مشروبات غیر الکلی ماشینی ب- مالیاتی که از اموال و دارایی باقی مانده از شخص فوت شده دریافت می شود. ج- کارکنان باید بخشی از درآمد خود را به دولت پرداخت کنند. د- مالیاتی که از تفاوت بین ارزش کالا و خدمات عرضه شده با ارزش کالا و خدمات خریداری شده گرفته می شود.	۱
۶	برای هر یک از موارد زیر چه نوع کسب و کاری مناسب تر است. الف- هزینه های راه اندازی بالاتر ب- آزادی عمل بیشتر و دریافت کل سود حاصل از فعالیت ج- برای ماموریتی غیرسود آور و غیر تجاری شکل گرفته است. د- بر اساس هر نفر یک رای اداره می شود.	۱
۷	اگر اصل مزیت نسبی و مطلق رعایت نشود چه مشکلاتی پیش می آید؟	۱

۲	جریان چرخشی ساده بین دو بازیگر اصلی اقتصاد ، خانوار و بنگاه را توضیح دهید	۸
۱	در مورد بهبود عملکرد بازار که از وظایف نظارتی دولت است توضیح دهید. اشاره به دو مورد کافی است	۹
۲	<p>با توجه به نمودار مرز امکانات تولید به سوالات زیر پاسخ دهید.</p> <p>الف- در نقطه الف با جابه جایی به نقطه می توان بدون تغییر در مقدار تولید مواد غذایی مقدار تولید پوشاک را به ۱۸۰۰ افزایش داد.</p> <p>ب- در نقطه د برای داشتن ۴۰۰ عدد پوشاک بیشتر باید روی مرز امکانات تولید به طرف نقطه حرکت کرد.</p> <p>ج- نام نقطه الف چیست ؟ دلیل آن را بنویسد؟</p> <p>تعداد پوشاک</p> 	۱۰
۲	<p>با توجه به نمودار روبرو که مربوط به عرضه و تقاضای یک کالا می باشد به سوالات زیر پاسخ دهید.</p> <p>الف- قیمت تعادل و مقدار تعادل است.</p> <p>ب- در قیمت های کمتر از قیمت تعادلی بازار با کمبود روبرو است و برای رسیدن به تعادل باید قیمت یابد.</p> <p>ج- اسم منحنی S و اسم منحنی D می باشد.</p> <p>د- حداکثر درآمد تولید کننده چقدر است؟</p> 	۱۱
۲	اطلاعات زیر مربوط به هزینه های کارگاه تولیدی پوشاک بهارک با ۴ نفر خیاط می باشد. درآمد سالانه این کارگاه ۲۰۰	۱۲

	<p>میلیون واحد پولی می باشد.</p> <p>خرید سالانه مواد اولیه ۱۰ میلیون واحد پولی - حقوق ماهانه هر خیاط ۲ میلیون واحد پولی - اجاره ماهانه کارگاه ۴ میلیون واحد پولی (در صورت اجاره دادن)</p> <p>الف- نتیجه عملکرد سالانه (سود یا زیان) این کارگاه تولیدی را تعیین کنید. با راه حل</p> <p>ب- اگر دولت سالانه مالیاتی معادل ۱۰٪ بر درآمد کارگاه تولیدی وضع کند، نتیجه عملکرد (سود و زیان) این کارگاه بعد از پرداخت مالیات را مشخص کنید.</p>	
۱	<p>هریک از موارد زیر به ترتیب جز کدام دسته از خطاها در تصمیم گیری است.</p> <p>الف- خیلی روسری داشتم اما نمی توانستم چشمم را روی این فروش فوق العاده ببندم.</p> <p>ب- دلم می خواهد تغییرات زیادی در زندگی ام ایجاد کنم اما هیچوقت زمان یا حوصله آن را پیدا نکردم.</p> <p>ج- من واقعا از آن فیلم خوشم نمی آمد ولی چون پول داده بودم آن را فیلم را تا آخر دیدم.</p> <p>د- آقای اکبری کل دارایی خود را می خواهد به تاسیس کارخانه کفش اختصاص دهد که در این شرایط جامعه کاری پر خطر است و سابقه برای این فعالیت را نیز ندارد.</p>	۱۳
۱	<p>مشخص کنید هر کشور در تولید کدام محصول مزیت نسبی یا مزیت مطلق دارد؟</p> <p>الف- کشور مکزیک قهوه را با هزینه فرصت کمتری نسبت به چایی تولید می کند.</p> <p>ب- با فرض اینکه کشور مکزیک و برزیل به یک اندازه از عوامل تولید برخوردار هستند. کشور مکزیک نمی تواند به اندازه کشور برزیل چایی تولید کند.</p>	۱۴
۱	<p>هر یک از موارد زیر جز کدام دسته از منابع کمیاب دسته بندی می شود؟</p> <p>منابع طبیعی - سرمایه فیزیکی - سرمایه مالی - سرمایه انسانی - نیروی کار</p> <p>الف- تراکتوری که با آن روی زمین کشاورزی کار می کنند.</p> <p>ب- مهارت و دانشی که در کارگاه آموزشی کسب می شود.</p> <p>ج- معدن در آن سنگ زمرد برداشت می کنند.</p> <p>د- زحمتی که برای نگه داشتن دام و طیور می کشند.</p>	۱۵

ردیف	پاسخ نامه	بارم
۱	جملات صحیح و غلط را مشخص کنید. الف- مالیات بر مصرف از مالیات ستانی مضاعف جلوگیری می کند. غلط ب- هزینه هایی که پرداخت شده و شما نمی توانید آن را برگردانید هزینه فرصت نام دارد. غلط ج- افزایش بهره وری و پیشرفت تکنولوژی باعث جابه جا شدن در طول مرز امکانات تولید می شود. غلط د- ابداعات و اختراعات معمولاً با کاهش هزینه ها اثر مثبتی بر مقدار تولید و عرضه دارند. صحیح	۱
۲	جاهای خالی را با کلمات مناسب پر کنید. الف- حقوق و عوارض گمرکی در واقع مالیات هر کشور بر صادرات و واردات کالای مختلف است که با نام (تعرفه گمرکی)..... نیز شناخته می شود. ب- کمیابی منابع هر جامعه را با (مبادله)..... مواجه می سازد. ج- کاغذ و کتاب کالای (مکمل)..... و اتوبوس و آژانس یک کالای (جانشین)..... هستند.	۲
۳	گزینه صحیح را انتخاب کنید. الف- بازار ماکرونی - فروشندگان آثار هنری به ترتیب اشاره به کدام نوع بازار دارند. رقابتی - مزایده رقابتی - مناقصه □ انحصاری - مزایده انحصاری - مناقصه ب- کدام یک از موارد زیر کارآفرینی محسوب می شود. کار در مغازه شیرینی فروشی دبیر رسمی اقتصاد فرمانده ارتش راه اندازی صبحانه در بوفه مدرسه حضرت آمنه □	۱
۴	به سوالات زیر پاسخ کوتاه دهید. الف- تولید کنندگان چگونه می توانند از وضعیت زیان دوری کنند. (کاهش هزینه افزایش درآمد) ب- توزیع سود احتمالی در تعاونی ها بر چه اساسی است. (نسبت به سرمایه هر عضو)	۱
۵	نوع مالیات را در هر یک از موارد زیر مشخص کنید. الف- مالیات بر مشروبات غیر الکلی ماشینی (مالیات بر مصرف) ب- مالیاتی که از اموال و دارایی باقی مانده از شخص فوت شده دریافت می شود. (مالیات بر ارث) ج- کارکنان باید بخشی از درآمد خود را به دولت پرداخت کنند. (مالیات بر درآمد) د- مالیاتی که از تفاوت بین ارزش کالا و خدمات عرضه شده با ارزش کالا و خدمات خریداری شده گرفته می شود. (مالیات بر ارزش افزوده)	۱
۶	برای هر یک از موارد زیر چه نوع کسب و کاری مناسب تر است. الف- هزینه های راه اندازی بالاتر (شرکت) ب- آزادی عمل بیشتر و دریافت کل سود حاصل از فعالیت (کسب و کار شخصی) ج- برای ماموریتی غیرسود آور و غیر تجاری شکل گرفته است. (غیر انتفاعی و خیریه) د- بر اساس هر نفر یک رای اداره می شود. (تعاونی)	۱
۷	اگر اصل مزیت نسبی و مطلق رعایت نشود چه مشکلاتی پیش می آید؟ اولاً منابع و سرمایه ها به بهترین شکل استفاده نمی شود که به نوعی هدررفت آنها محسوب میشود	۱

	با تولید محصولات کمتر و بی کیفیت رفاه جامعه کاهش می یابد.	
۲	جریان چرخشی ساده بین دو بازیگر اصلی اقتصاد ، خانوار و بنگاه را توضیح دهید جواب ص ۴۶ کتاب درسی	۸
۱	در مورد بهبود عملکرد بازار که از وظایف نظارتی دولت است توضیح دهید. اشاره به دو مورد کافی است دولت با تعریف و اجرای حقوق مالکیت امنیت خرید و فروش و مبادلات را بهبود می بخشد مجموعه گسترده ای از قوانین و مقررات که توسط دولت وضع و اجرا میشود به منظور تسهیل و تشویق مبادلاتی است که به نفع خریداران و فروشندگان است	۹
۲	با توجه به نمودار مرز امکانات تولید به سوالات زیر پاسخ دهید. الف- در نقطه الف با جابه جایی به نقطه (ب)..... می توان بدون تغییر در مقدار تولید مواد غذایی مقدار تولید پوشاک را به ۱۸۰۰ افزایش داد. ب- در نقطه د برای داشتن ۴۰۰ عدد پوشاک بیشتر باید روی مرز امکانات تولید به طرف نقطه (ج)..... حرکت کرد. ج- نام نقطه الف چیست و دلیل آن را بنویسید ناکار- زیرا از تمامی منابع و امکانات درست استفاده نشده	۱۰
		
۲	با توجه به نمودار روبرو که مربوط به عرضه و تقاضای یک کالا می باشد به سوالات زیر پاسخ دهید. الف- قیمت تعادل (۲۰۰) و مقدار تعادل (۴۰) است. ب- در قیمت های کمتر از قیمت تعادلی بازار با کمبود (عرضه) روبرو است و برای رسیدن به تعادل باید قیمت (افزایش) یابد. ج- اسم منحنی S (عرضه) و اسم منحنی D (تقاضا) می باشد. د- حداکثر درآمد تولید کننده چقدر است؟ $200 \times 40 = 8000$	۱۱
		

۲	<p>اطلاعات زیر مربوط به هزینه های کارگاه تولیدی پوشاک بهارک با ۴ نفر خیاط می باشد. درآمد سالانه این کارگاه ۲۰۰ میلیون واحد پولی می باشد.</p> <p>خرید سالانه مواد اولیه ۱۰ میلیون واحد پولی - حقوق ماهانه هر خیاط ۲ میلیون واحد پولی - اجاره ماهانه کارگاه ۴ میلیون واحد پولی (در صورت اجاره دادن)</p> <p>الف- نتیجه عملکرد سالانه (سود یا زیان) این کارگاه تولیدی را تعیین کنید. با راه حل</p> <p>ب- اگر دولت سالانه مالیاتی معادل ۱۰٪ بر درآمد کارگاه تولیدی وضع کند، نتیجه عملکرد (سود و زیان) این کارگاه بعد از پرداخت مالیات را مشخص کنید.</p> <p>الف- درآمد = 200 هزینه ها = $154 = 10 + (2 \times 4 \times 12) + (4 \times 12)$</p> <p>درآمد - هزینه = $200 - 154 = 46$. این کارگاه سود ده بوده است</p> <p>ب- $154 + 20 = 174$ اگر مالیات پرداخت کند باز هم سود کرده است</p>	۱۲
۱	<p>هریک از موارد زیر به ترتیب جز کدام دسته از خطاها در تصمیم گیری است.</p> <p>الف- خیلی روسری داشتم اما نمیتوانستم چشمم را روی این فروش فوق العاده ببندم. حقه های فروش</p> <p>ب- دلم می خواهد تغییرات زیادی در زندگی ام ایجاد کنم اما هیچوقت زمان یا حوصله آن را پیدا نکردم. (چسبیدن به وضعیت فعلی)</p> <p>ج- من واقعا از آن فیلم خوشم نمی آمد ولی چون پول داده بودم آن را فیلم را تا آخر دیدم. هزینه های هدر رفته</p> <p>د- آقای مرادی کل دارایی خود را می خواهد به تاسیس کارخانه کفش اختصاص دهد که در این شرایط جامعه کاری پر خطر است و سابقه برای این فعالیت را نیز ندارد. اعتماد به نفس بیش از حد</p>	۱۳
۱	<p>مشخص کنید هر کشور در تولید کدام محصول مزیت نسبی و مطلق دارد؟</p> <p>الف- کشور مکزیک قهوه را با هزینه فرصت کمتری نسبت به چایی تولید می کند.</p> <p>ب- با فرض اینکه کشور مکزیک و برزیل به یک اندازه از عوامل تولید برخوردار هستند. کشور مکزیک نمی تواند به اندازه کشور برزیل چایی تولید کند.</p> <p>الف- کشور مکزیک در تولید قهوه مزیت نسبی دارد</p> <p>ب- کشور برزیل در تولید چای مطلق دارد</p>	۱۴
۱	<p>هر یک از موارد زیر جز کدام دسته از منابع کمیاب دسته بندی می شود؟</p> <p>منابع طبیعی - سرمایه فیزیکی - سرمایه مالی - سرمایه انسانی - نیروی کار</p> <p>الف- تراکتوری که با آن روی زمین کشاورزی کار می کنند. سرمایه فیزیکی</p> <p>ب- مهارت و دانشی که در کارگاه آموزشی کسب می شود. سرمایه انسانی</p> <p>ج- معدن در آن سنگ زمرد برداشت می کنند. منابع طبیعی</p> <p>د- زحمتی که برای نگه داشتن دام و طیور می کشند. نیروی کار</p>	۱۵